

ВСЕРОССИЙСКАЯ ОЛИМПИАДА ШКОЛЬНИКОВ
ПО ИСТОРИИ 2018–2019 уч. г.
МУНИЦИПАЛЬНЫЙ ЭТАП
8 класс

Время на выполнение задания – 1, 5 часа (90 минут)

Уважаемый участник!

При выполнении заданий Вам предстоит выполнить определённую работу, которую лучше организовать следующим образом:

- внимательно прочитайте задание;
- если Вы отвечаете на теоретический вопрос или решаете ситуационную задачу, обдумайте и сформулируйте конкретный ответ (ответ должен быть кратким, его содержание следует вписать в отведённое поле; записи ведите чётко и разборчиво);

За каждый правильный ответ Вы можете получить определённое членами жюри количество баллов, не выше указанной максимальной оценки. Сумма набранных баллов за все решённые вопросы – итог Вашей работы.

Максимальное количество баллов – 86. Задания считаются выполненными, если Вы вовремя сдали их членам жюри.

Желаем успеха!

В задании №1 дайте один верный ответ. Ответ внесите в таблицу в бланке работы.

КРАЕВЕДЕНИЕ:

1.1 Кто жил в Ямской слободе города-крепости Воронежа в XVII веке?

- 1) Казаки; 2) Рудокопы; 3) Водопроводчики; 4) Ямщики.

1.2 Как был назван первый построенный в Воронеже в 1696 году корабль?

- 1) «Принципиум»; 2) «Апостол Пётр»; 3) «Предестинация»; 4) «Старый дуб».

1.3 Кто из полярный исследователей XVIII века, чьим именем названы море, пролив и остров, проходил в Воронеже в 1711 году службу среди офицеров русского флота?

- 1) В.И. Беринг; 2) И.Ф. Крузенштерн; 3) В.Ю. Визе; 4) Ф.П. Врангель.

1.4 Сколько зубцов у башенной короны на гербе города Воронежа?

- 1) три; 2) четыре; 3) пять; 4) шесть

1.5 Как звали поэта-декабриста, который в составе своего полка служил в г. Острогожске и сёлах Белогорье и Подгорное Воронежской губернии?

- 1) К.Ф. Рылеев; 2) В.К. Кюхельбекер; 3) А.И. Одоевский; 4) П.Я. Чаадаев.

Ответ:

1.1	1.2	1.3	1.4	1.5
4	2	1	3	1

По 2 балла за каждый верный ответ. Всего 10 баллов за задания 1–3.

В задании №2 выберите несколько верных ответов из предложенных.

Ответы внесите в таблицу в бланке работы.

2.1. Какие из перечисленных городов Россия уступала Речи Посполитой по Деулинскому перемирию?

- 1) Смоленск
- 2) Новгород-Северский
- 3) Псков
- 4) Ивангород
- 5) Чернигов
- 6) Вязьма

2.3 События, относящиеся к эпохе правления Ивана Грозного:

- 1) Учреждение стрелецкого войска.
- 2) Основание Ивангорода.
- 3) Присоединения к России Восточной Сибири.
- 4) Начало созыва земских соборов.
- 5) Основание города Юрьева.

6) Потеря части русских земель в Прибалтике.

Ответ:

2.1	2.2
1, 4, 5	2, 3, 1

4.5 По 3 балла за полностью верный ответ на каждое задание; 1 балл за ответ с одной ошибкой (не указан один из верных ответов или наряду с указанными верными ответами приводится один неверный).

Всего 6 баллов за задания 2.1 и 2.2.

Задание №3. Определите, по какому принципу образованы ряды (8 баллов).

3.1. 979-912 гг., 912-945 гг., 952-967 гг., 980-1015 гг. (2 балла) - Даты соседствия

(образование) русских земель

3.2. Чингисхан, Батый, Мамай, Тамерлан (Тимур) (2 балла) -

Правители Золотой Орды

3.3. А.К. Нартов, И.И. Ползунов, И.П. Кулибин, К.Д. Фролов (2 балла) -

Изобретатели

3.4. 1606-1607 гг., 1670-1671 гг., 1734-1737 гг., 1773-1775 гг. (2 балла) -

Даты восстаний

2.5 **Задание №4.** Дайте краткое обоснование ряда (что объединяет перечисленные элементы с исторической точки зрения) и укажите, какой из элементов является лишним по данному основанию.

4.1. П.А. Зубов, А.Д. Меншиков, Г.Г. Орлов, Г.А. Потемкин, А.Д. Ланской.

Ошиб является лишним, так как все, кроме него, связано с парижским миром. Он не, предприниматель.

4.2. Зернь, скань, филигрань, чернь, фреска.

Виды росписи по стеклу.

2 балла за каждый верный ответ. (1 балл за правильное обоснование, 1 балл за указание лишнего.) Всего за задание 4 балла.

2.5 **Задание №5.** Восстановите хронологическую последовательность событий. (1 балл за каждую, верно, указанную цифру, максимальный балл – 4)

- А) воцарение Василия Шуйского
- Б) воцарение Лжедмитрия I
- В) появление в Стародубе Лжедмитрия II
- Г) восстание Ивана Болотникова

Ответ:

1	2	3	4
Б	Г	А	В

5 **Задание №6.** К правлению каких князей имеют отношение приведенные ниже отрывки? Укажите даты правления данных князей. Свой ответ оформите в виде таблицы [6 баллов].

1. «Не любо ми есть в Киеве быти, хочю жити в Переяславци на Дунай, яко то есть середя земли моей, яко ту вся благая сходятся: оть Грекъ злато, поволоки, вина и оwoщеве разноличныя, пзь Чехъ же, из Угорь сребро и комони, из Руси же скоро и воскъ, медь и челядь»

2. «1. Убьет муж мужа, то мстит брат за брата, или сын за отца, или сын брата, или сын сестры; если не будет никто мстить, то 40 гривен за убитого.

Если убитый - русин, или гридин, или купец, или ябедник, или мечник, или же изгой, или Словенин, то 40 гривен уплатить за него...».

3. «Что шумит, что гремит рано перед зарями? Князь Владимир Андреевич полки устанавливает и перебирает, и ведет к Дону великому. И говорил он брату своему: «Князь..., не ослабляй, князь великий, татарам. Уже ведь поганые на поля вступают, отнимают отчину нашу». Сказал ему князь великий...: «Брат, князь Владимир Андреевич, сами мы два брата, воеводы у нас поставлены, дружина нам известна, имеем под собой борзых коней, а на себе золоченые доспехи, шлемы черкасские, щиты московские, сулицы немецкие, копыа фряжские, мечи булатные...».

Ответ:

Номер отрывка (не заполняется)	Князь (имя и прозвище/отчество)	Даты правления
	Юрий Долгорукий	-
	Владимир Мономах Андреевич	-

Задание №7. Вставьте слова и сочетания слов вместо пропусков, выбрав их из предложенного списка. Слова даны в списке в именительном падеже и в единственном числе. В таблице укажите соответствие между номером пропуска и буквенным обозначением соответствующего слова. Обратите внимание: в тексте может изменяться форма данных слов (падеж, число); в списке слов и сочетаний слов больше, чем пропусков в тексте. (Максимальный балл -14 баллов)

28 сентября 1708 г, у (1) Лесной корпус (2) Ливенгаупт был перехвачен и разбит "летучим отрядом», возглавляемым самим Петром. В результате сражения Карл XII лишился столь нужных ему подкреплений и обоза. Была подорвана уверенность шведов в их непобедимости, зато поднялся моральный дух русской армии. Петр назвал эту победу "матерью Полтавской баталии". Расчет Карла XII на усиление шведской армии в связи с переходом на ее сторону гетмана Украины (3) Хмельницкого не оправдался: только незначительная часть казачества, обманутая гетманом, перешла на сторону шведов.

Ранним утром 27 июня 1709 г. произошло решающее сражение между войсками Петра I и Карла XII под (4) Полтавой. К 11 часам русские войска полностью разгромили шведов. Показав чудеса храбрости, в ожесточенном рукопашном бою русская армия опрокинула шведов и обратила их в бегство. Из 30 тыс. шведских солдат 9 тыс. были убиты и 3 тыс. взяты в плен. Еще 16 тыс. шведов русские пленили в ходе преследования. Сам Карл XII вместе бежал в (5) Ангию.

Полтавская победа, в результате которой были уничтожены сухопутные войска шведов, определила исход (6) Северной войны. Она продемонстрировала возросшую мощь русской армии, укрепила международный авторитет России, на сторону которой вновь перешли Польша и Дания, а также Пруссия и Ганновер.

Пропущенные элементы:

А- Гренгам, Б-Ливенгаупт, В-Реншельд, Г-Нарва, Д- Мазепа,	Е- Хмельницкий, Ж- Семилетняя, З- Лесная, И- Польша, К-Полтава,	Л-Отечественная, М- Турция, Н- Кунерсдорф, О- Англия, П- Выговский,	Р- Северная, С- Дания
---	---	---	--------------------------

Ответ:

1.	2.	3.	4.	5.	6.	7.
З	Б	Е	К	О	Р	С


Задание №8. Перед вами 8 музейных экспонатов, рассказывающих о страницах российской и европейской истории. Разбейте представленные экспонаты на 4 пары, пояснив, каким сюжетом они между собой связаны. Назовите представленные ниже экспонаты, ответ внесите в таблицу в соответствующие графы. (Максимальный балл - 12)

1128101808

1




2




3




4



5




6



7

8

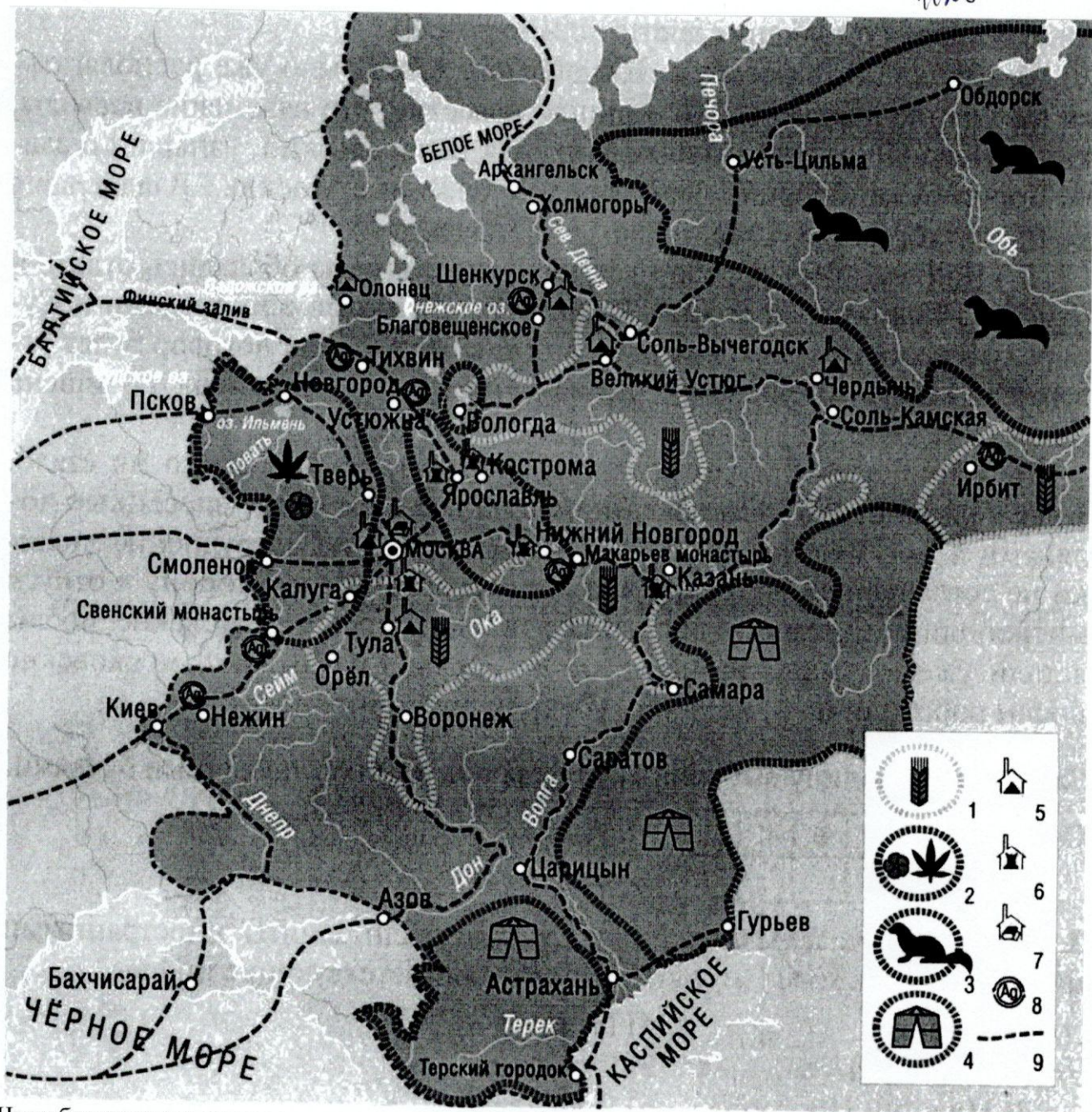


Ответ:

	№	Название экспонатов	Что их связывает?
1 пара	1, 7	1). Христофор Колумб 2). Корабль	Христофор Колумб - путе- дествующий первооткрыва- тель, который проде- лывал пути на корабле.
2 пара	8, 3	1). ... 2). материк Австралия	Этот первооткрыватель открыл Австралию.
3 пара	6, 7	1). Земский собор 2). ...	Их объединяет один стиль архитектуры.
4 пара	2, 4	1). Борок 2). Шапка мамаша	Шапка мамаша и Борок - то, что носит царь и где собираются и кажутся.

Задание №9. Задания по карте «Экономическое развитие России в XVII веке».
(максимальный балл – 14)

11810808



45 9.1 Что обозначено в легенде к карте условными обозначениями (9 баллов)?
 Ответ:

1	Зерновые продукты
2	Шелк, растения и пчеловодство
3	Места концентрации лесных зверей (место охоты)
4	Места вышитоие (необязательно) перевалов
5	Места производства улья
6	- места первичного производства (кожевинность)
7	- Металлическое дело (металл)
8	Торговые места
9	Границы определенных районов (или торговых путей)

9.2. Определите, о каких новых явлениях в экономической жизни страны идёт речь в отрывках из документов. Какими цифрами обозначены на карте эти явления (2 балла)?

А. «В нынешнем, государь, во 156-м году июня в 19 день пригнали из Литвы и из-за рубежа купцы во Брянской уезд, Свинского монастыря в вотчину в село Супонева, от города вёрст за 6, животину, волов з 200 и больши. И не явися в городе под тем селом перевезлись за реку Десну на монастырский ж пустоши... И они скозалися литовского города Мены пана Адама Киселя купцы посадские люди

Дмитрий Юрьев да Иван Матвеев, пригнали де к Свинской ярмонки продавать» (отписка воеводы в Посольский приказ).

Б. «Царю государю и великому князю Михаилу Фёдоровичу всеа Русин бьёт челом Галанской земли гость Андрюшка Виниус с товарищи. По твоему Государеву указу велено нам делать въ Тульскомъ уезде всякого железного заводу, и ныне, Государь, едутъ Галанские земли Французене железново дела завидные мастера человек с двадцать с прикащиком нашим с Яномъ Дани Милосердный государь, царь и великий князь Михайло Федоровичъ всеа Руси, пожалуй, вели, Государь, нам дать свою Государеву проезжую грамоту...» (из челобитной Андрея Виниуса).

Ответ:

Говорится некое дело, которое развивается торговле связи (отличается от других) 5, 6, 7, 8), также привозят, делаются.

9.3. В каких трёх городах и монастырях в XVII в. существовали крупные (всероссийского значения) ярмарки? Запишите соответствующие цифры (3 балла).

- 1) Азов
- 2) Ирбит
- 3) Макарьев монастырь
- 4) Соловецкий монастырь
- 5) Тихвин
- 6) Троице-Сергиев монастырь

Ответ: 2, 3, 5

16 **Задание №10.** Прочитайте отрывок из Суздальской летописи по Лаврентьевскому списку.

Ответьте на поставленные ниже вопросы (8 баллов)

«В лето 6668 (1160). Новгородцы прислали к Андрею Юрьевичу (Боголюбскому), прося у него сына на княжение в Новгороде, а Святослава Ростиславовича выгнали... Андрей же князь предложил им брата своего Мстислава, они же его не пожелали, и он послал им племянника своего... Вскоре новгородцы его выгнали и посадили Романа, сына великого князя Киевского... Тою же зимою князь Андрей послал сына своего Мстислава со всею дружиною на Великий Новгород, и князь Рязанский сына послал, и Муромский сына же послал. И придя в землю их, много зла причинили, села все взяли и пожгли, и людей по селам иссекли, а жен и детей, имущество и скот захватили»

ВОПРОСЫ:

- 1) Что такое (кто такие) «низовые»?
- 2) Что значит «править долги» и при чем тут война?
- 3) Кто такие «любские купцы»?
- 4) За что князь хочет отомстить новгородцам? Когда (назовите век) и в соответствии с грамотами какого правителя были установлены особые отношения между новгородцами и князьями, правившими в Новгороде?

1) «Низовые» - князья славянских племен.

2) Править долги значит заправлять долги, война решила все это.

3) любские купцы - это купцы, которые по всем странам, и продают и покупают товары и вещи, они и составляют.

4) Князь хочет отомстить, потому что новгородцы отослали без уважения к нему. XII - XIII век.

Максимальное количество баллов – 86

Не забудьте перенести Ваши ответы в бланк работы.